



Problemi figurati

ALLA FESTA CI SONO 8 MOSTRI ROSSI E 4 MOSTRI VERDI.

QUANTI MOSTRI CI SONO **IN TUTTO** ALLA FESTA?

**DATI**

MOSTRI ROSSI

MOSTRI VERDI

RISOLVO CON L'OPERAZIONE

$$\square + \square = \square$$

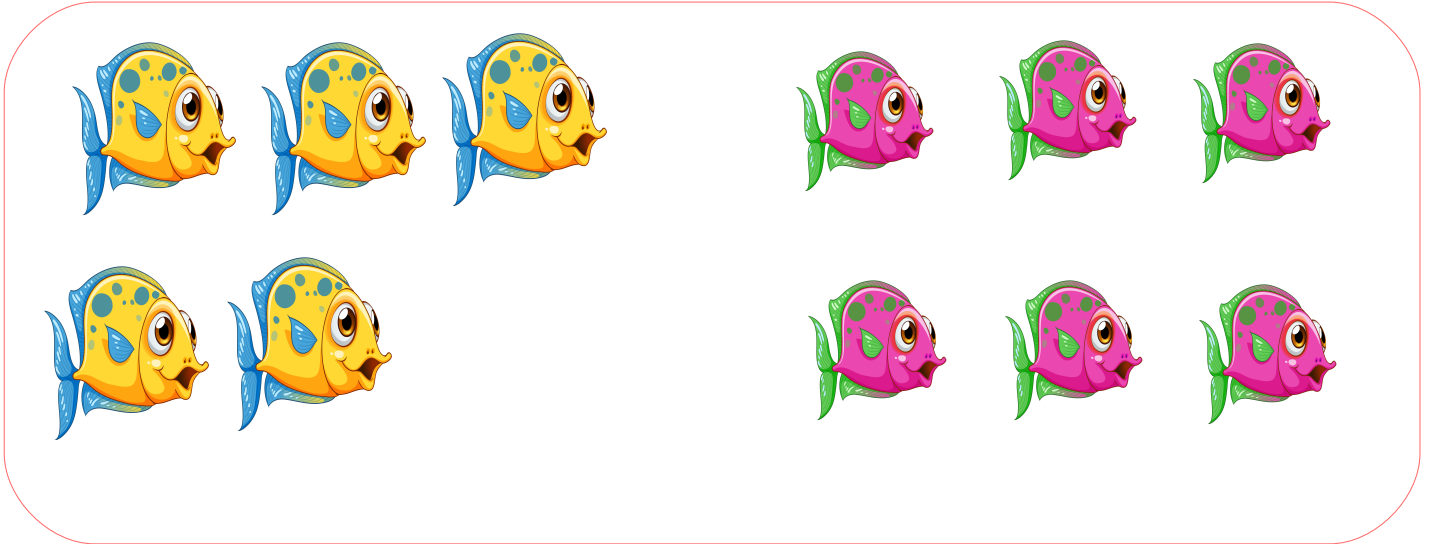
RISPOSTA:

IN TUTTO ALLA FESTA CI SONO MOSTRI

Problemi figurati

NELL'ACQUARIO CI SONO 5 PESCI GIALLI E 6 PESCI ROSA.

QUANTI PESCI CI SONO **IN TUTTO** NELL'ACQUARIO?



DATI

PESCI GIALLI

PESCI ROSA

RISOLVO CON L'OPERAZIONE


$$\square + \square = \square$$

RISPOSTA:

IN TUTTO NELL'ACQUARIO CI SONOPESCI

Problemi figurati

LA GALLINA HA DEPOSTO 6 UOVA MARRONI E 4 UOVA BIANCHE.
QUANTE UOVA HA DEPOSTO IN TUTTO LA GALLINA?



DATI

UOVA MARRONI

UOVA BIANCHE

RISOLVO CON L'OPERAZIONE

$$\boxed{} + \boxed{} = \boxed{}$$

RISPOSTA:

IN TUTTO LA GALLINA HA DEPOSTOUOVA

ORA TOCCA A TE!

DISEGNA E RISOLVI IL PROBLEMA

SUL TAVOLO CI SONO 4 FORCHETTE E DUE COLTELLI.

QUANTE POSATE CI SONO IN TUTTO?



DATI

FORCHETTE

COLTELLI

RISOLVO CON L'OPERAZIONE

$$\square + \square = \square$$

RISPOSTA:

IN TUTTO CI SONOPOSATE

DISEGNA E RISOLVI IL PROBLEMA

NEL PRATO CI SONO 7 FIORI ROSSI E 4 FIORI GIALLI.
QUANTI FIORI CI SONO IN TUTTO?



DATI

FIORI ROSSI

FIORI GIALLI

RISOLVO CON L'OPERAZIONE


$$\square + \square = \square$$

RISPOSTA:

IN TUTTO CI SONOFIORI

Problemi figurati

SULL'ALBERO CI SONO 10 MELE, IL VENTO NE FA CADERE 4.
QUANTE MELE RESTANO SULL'ALBERO?



DATI

TUTTE LE MELE SULL'ALBERO

MELE CADUTE DALL'ALBERO

RISOLVO CON L'OPERAZIONE


$$\square - \square = \square$$

RISPOSTA:

SULL'ALBERO RESTANOMELE.

Problemi figurati

NEL SACCHETTO CI SONO 8 BISCOTTI, MARCO MANGIA 2 BISCOTTI.
QUANTE BISCOTTI RESTANO NEL SACCHETTO?



DATI

TUTTI I BISCOTTI BEL SACCHETTO

BISCOTTI MANGIATI DA MARCO

RISOLVO CON L'OPERAZIONE

$$\square - \square = \square$$

RISPOSTA:

NEL SACCHETTO RESTANOBISCOTTI.

Problemi figurati

SUL TAVOLO CI SONO 4 BICCHIERI, 3 BICCHIERI CADONO E SI
ROMPONO.

QUANTI BICCHIERI RESTANO INTERI?



DATI

TUTTI I BICCHIERI SUL TAVOLO

BICCHIERI ROTTI

RISOLVO CON L'OPERAZIONE

$$\square - \square = \square$$


RISPOSTA:

RESTANOBICCHIERI INTERI.

ORA TOCCA A TE!

DISEGNA E RISOLVI IL PROBLEMA

SUL RAMO CI SONO 5 UCCELLINI, 2 UCCELLINI VOLANO VIA.
QUANTI UCCELLINI RESTANO SUL RAMO?



DATI

TUTTI GLI UCCELLINI SUL RAMO

UCCELLINI CHE VOLANO VIA

RISOLVO CON L'OPERAZIONE

$$\square - \square = \square$$

RISPOSTA:

SUL RAMO RESTANOUCCELLINI.

DISEGNA E RISOLVI IL PROBLEMA

LO SCOIATTOLO HA RACCOLTO 7 GHIANDE, NE MANGIA 5.
QUANTI GHIANDE RESTANO ALLO SCOIATTOLO?



DATI

TUTTE LE GHIANDE RACCOLTE

GHIANDE MANGIATE DALLO SCOIATTOLO

RISOLVO CON L'OPERAZIONE

$$\square - \square = \square$$

RISPOSTA:

ALLO SCOIATTOLO RESTANOGHIANDE