



Completa le sottrazioni come nell'esempio

 $4 - 1 = 3$

 $5 - 3 =$


 $4 - 2 =$


 $4 - 3 =$

 $5 - 1 =$

 $3 - 2 =$


Completa le sottrazioni come nell'esempio

 $4 - 1 = 3$

 $5 - 2 =$


 $4 - 3 =$

 $5 - 3 =$

 $3 - 2 =$

 $4 - 2 =$

Completa le sottrazioni come nell'esempio

 $4 - 1 = 3$

 $4 - 2 =$

 $3 - 2 =$

 $3 - 1 =$

 $4 - 3 =$

 $2 - 1 =$

Completa le sottrazioni come nell'esempio

 $5 - 1 = 4$

 $4 - 1 =$


 $4 - 2 =$

 $3 - 2 =$

 $3 - 1 =$

 $5 - 3 =$

Completa le sottrazioni come nell'esempio

 $4 - 1 = 3$

 $4 - 3 =$


 $3 - 2 =$

 $5 - 3 =$

 $3 - 3 =$

 $5 - 4 =$


Completa le sottrazioni come nell'esempio

 $4 - 1 = 3$

 $4 - 2 =$

 $3 - 2 =$

 $4 - 3 =$

 $2 - 1 =$

 $3 - 1 =$
